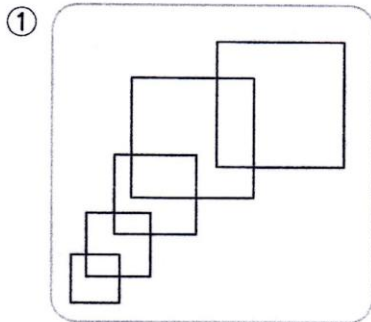
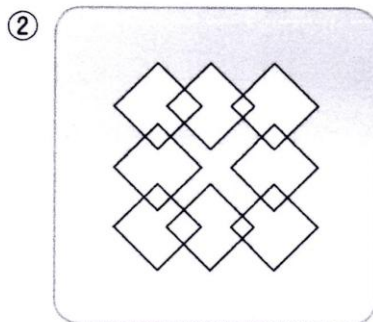


かぞエアゲーム②

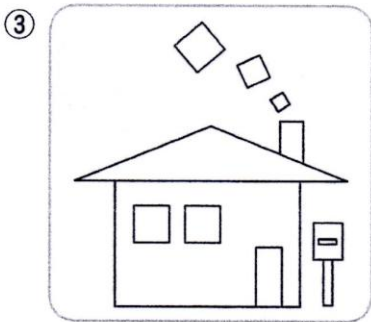
それぞれのへやの中に、正方形（ま四角）と長方形（なが四角）はそれぞれいくつあるかな？ 数えてみよう！




正方形 () こ
長方形 () こ



正方形 () こ
長方形 () こ



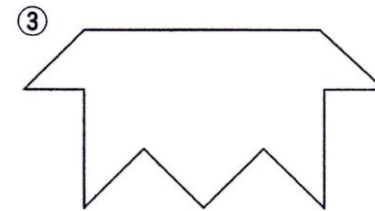
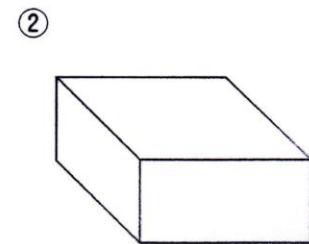
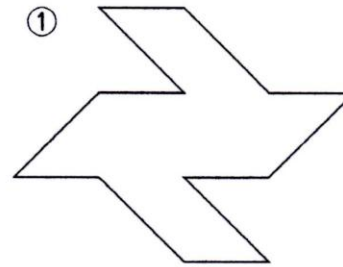
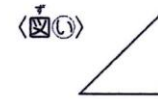
正方形 () こ
長方形 () こ



正方形 () こ
長方形 () こ

かくれたカタチ①

下の①～③はすべて〈図④〉と同じ大きさ・同じ形に切ることができます。〈図④〉がいちばん多くできるのはどれかな？



() 番