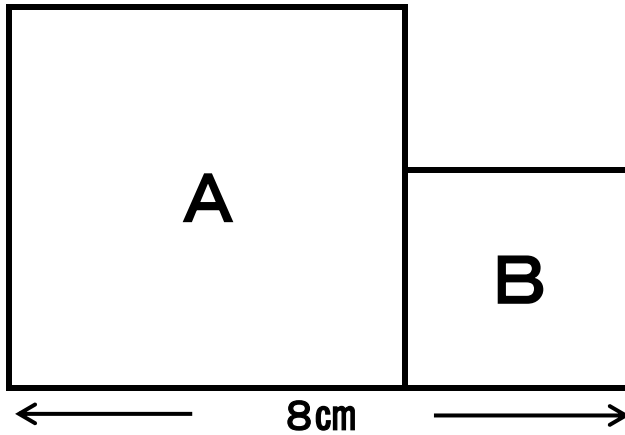


2017年2月9日(木) 5・6年家庭学習②

【1】下の図のA・Bはどちらも正方形で、この図全体のまわりの長さは26cmです。

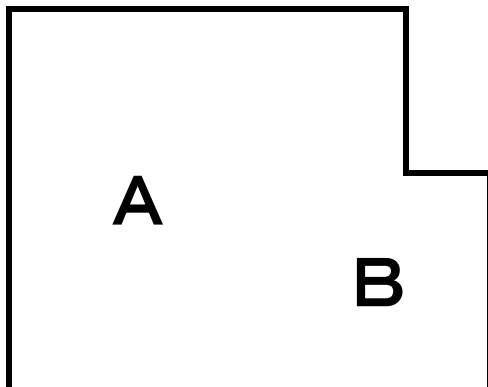
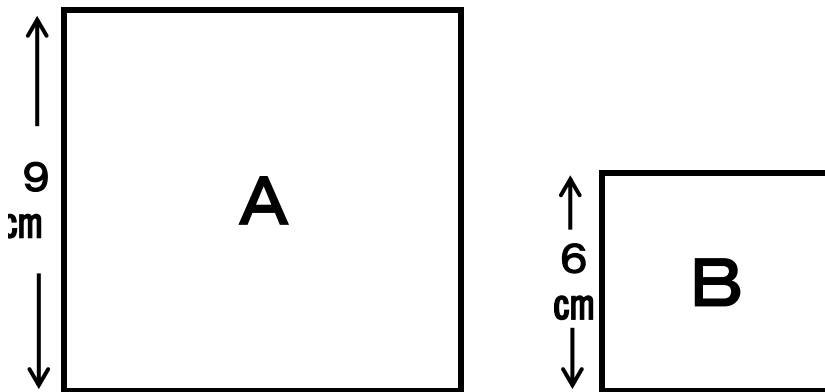
Aの1辺の長さは何cmですか！？



答え _____ cm

【1】下の図A・Bはどちらも正方形です。A・Bを下のように重ねたら、全体のまわりの長さが40cmになるように重ねました。A・Bが重なった部分は長方形になっています。

A・Bが重なった部分の長方形の横の長さは何cmですか！？



答え _____ cm