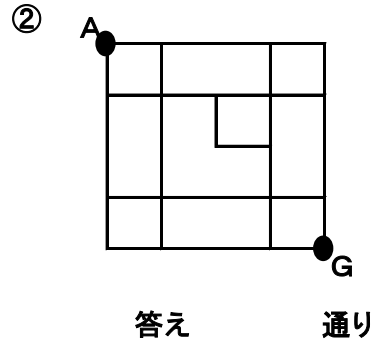
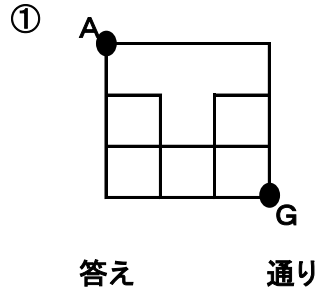
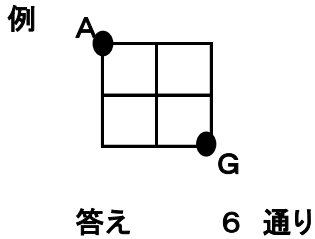


9月24日(水) ミーティング②

【1】下の四角の線をたどって、『A』をスタートして『G』まで行くコースは全部で何通りでしょうか!?
ただし、道は右か下にしか進めません。



【2】サイコロを同時に2個振って、目の合計が1になるのは何通りありますか!?

通り

【3】トランプ54枚から2枚引いて、数字の合計が3になるのは何通りありますか!?

通り

【4】トランプ54枚から4枚引いて、数字の合計が4になるのは何通りありますか!?

通り